



Соедини точки так, чтобы получился сперва самый большой квадрат, а внутри него — самый маленький.
Какие ещё квадраты можно нарисовать?




Помоги пчёлке добраться до улья. Это можно сделать разными путями, но обязательно надо идти от точки к точке. Нарисуй сперва любой путь, а потом подумай и нарисуй самый короткий путь.

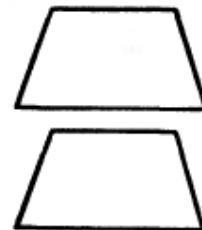


Ответь на вопросы к каждой картинке. После этого сам или с помощью взрослых проверь, не ошибся ли ты.

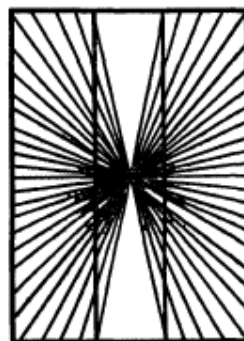
Какой отрезок длиннее — верхний или нижний?



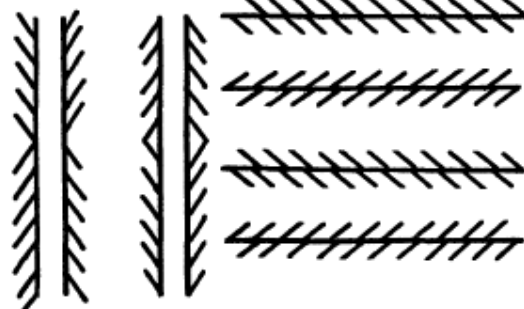
Какая фигура больше — верхняя или нижняя?




Прямые или изогнутые эти линии?



Прямо или криво стоят эти палочки?



Намного ли больше эта фигура по высоте, чем по ширине?



Какая из нижних линий продолжение верхней?